

EXERCICE - Complète le schéma ci-dessous avec les mots suivants :

RURALE* , ville, URBAINE* , dispersé, littoralisé, BIDONVILLES* , Asie, MÉTROPOLE* , grattes-ciels, lotissements, CONTENEURS* , Afrique, PÉRIURBAIN* , NOMADE* , AGGLOMÉRATION, groupé, terrasse, États-Unis, maisons, vertical, désorganisé.

Pays : Burkina Faso

Pays :

Pays : Mongolie


Pays : Népal

Continent :

Continent : AMÉRIQUE

Continent : ASIE

Continent :



Habitat

(Ici, des CASES)

Habitat

(Ici, des FERMES)

Habitat

(Ici, des YOURTES)

Habitat et agriculture

aménagés en

46% de la population mondiale habite la campagne : elle est donc

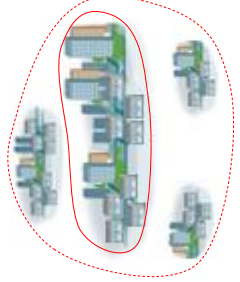


La variété des formes d'occupation spatiale (des espaces) dans le monde



54% de la population mondiale habite la ville : elle est donc

.....



Elle habite et utilise des quartiers très différents selon les villes, les pays...

.....
et immeubles



Habitat horizontal

« »




Habitat

Pavillons en



Habitat

Quai à



Habitat